



MSET

ప్రవేశ పరీక్షా పత్రము -2017
Entrance Test -2017

తరగతి- VI
Class - VI

తెలుగు, గణితము, పరిసరాల విజ్ఞానము మరియు ఇంగ్లీషు

Telugu, Mathematics, Environmental Science and English

హాల్ టికెట్ నెంబరు
Hall Ticket No.

రూము నెం.
Room No.

పరీక్షా కేంద్రము పేరు
Exam Centre Name

ఇన్విజిలెటర్ సంతకము
Invigilator's Signature

Time : 2 Hours

ముఖ్య సూచనలు :

1. హాల్ టికెట్ నెంబరును మరియు పరీక్షా కేంద్రము పేరును సంబంధిత గడిలో వ్రాయవలయును.
2. ఈ ప్రశ్నా పత్రములో 100 ప్రశ్నలు కలవు. ప్రతి ప్రశ్నకు మార్కు ఒకటి (01). ప్రతి ప్రశ్నకు దిగువన నాలుగు సమాధానములు ఇవ్వబడినవి. వాటిలో సరియైన సమాధానముగా గుర్తించిన సమాధాన సంఖ్యను ప్రశ్నకు ఎదురుగా ఉన్న బ్రాకెట్ నందు వ్రాయవలయును.
3. బ్రాకెట్ పూరించు సమయములో దిద్దుబాటుగాని, కొట్టివేతగాని వున్నచో అట్టి సమాధానములు పరిగణనలోనికి తీసుకొనబడవు.
4. ఏదైనా ప్రశ్నకు సమాధానము తెలియని ఎడల కాలము వృథా చేయక తరువాత ప్రశ్న సమాధానము వ్రాయడానికి ప్రయత్నం చేయాలి.

TM/EM

[1]



తెలుగు
(Telugu)

1. శ్రీ వేదల సత్యనారాయణ శాస్త్రి గారికి గల బిరుదు ఏమిటి ? [.....]
- (1) కవి కోకిల (2) గాన కోకిల
(3) గౌతమీ కోకిల (4) భారత కోకిల
2. ఈ క్రింది వానిలో సామెతను గుర్తించండి. [.....]
- (1) అందెవేసిన చేయి
(2) ఆరు నెలలు సహవాసం చేస్తే వాళ్ళు వీళ్ళవుతారట.
(3) కళ్ళు నెత్తికెక్కు
(4) నోట్లో నాలుక లేని మనిషి
3. శ్రీ శైలంలో మహాశివరాత్రి నాడు ఎవరి కళ్యాణం జరుగుతుంది ? [.....]
- (1) పార్వతీ కళ్యాణం (2) సీతా కళ్యాణం
(3) పద్మావతీ కళ్యాణం (4) భ్రమరాంబ కళ్యాణం
4. చాందిని పాటలు పాడింది. చాందిని బహుమతులు గెలుచుకొన్నది. [.....]
- ఈ వాక్యాలను సంయుక్త వాక్యంగా రాస్తే ఇలా ఉంటుంది.
- (1) చాందిని పాటలు పాడి బహుమతులు గెలుచుకొన్నది.
(2) చాందినికి పాటలు పాడినందువల్ల బహుమతులు రాలేదు.
(3) చాందిని బహుమతులు వచ్చినందుకు పాటలు పాడింది.
(4) చాందిని పాటలు పాడకపోయినా బహుమతులు గెలుచుకొన్నది.

5. తూర్పు గోదావరి జిల్లాలో ఉన్న భీమేశ్వరాలయం ముందు ఉన్న చెరువును ఏమంటారు ? [.....]
- (1) పంచ గోదావరం (2) అష్ట గోదావరం
(3) సప్త గోదావరం (4) నవ గోదావరం
6. క్రింది పదాలలో సంయుక్తాక్షర పదాన్ని గుర్తించండి. [.....]
- (1) వన్నె చిన్నెలు (2) వస్త్రం
(3) మట్టి బొమ్మ (4) పట్నం
7. ఈ క్రింది పదాలలో వరుస క్రమంలో ఉన్న వాటిని గుర్తించండి. [.....]
- (1) నూర్పిడి, కలుపు, ధాన్యం, నాటు (2) నాటు, కలుపు, నూర్పిడి, ధాన్యం
(3) కలుపు, నాటు, నూర్పిడి, ధాన్యం (4) నాటు, ధాన్యం, కలుపు, నూర్పిడి
8. స్త్రీ వేష - ధారణలో పోలీసుల కన్నుగప్పి జెండాను ఎగుర వేసినది ఎవరు ? [.....]
- (1) జగపతి రామానాండ్ (2) పింగళి వెంకయ్య
(3) బాల గంగాధర తిలక్ (4) లాల్ బహుదూర్ శాస్త్రి
9. జాతీయ పతాకానికి ఏ తేదీన ఆమోద ముద్ర వేశారు ? [.....]
- (1) 1945 జూలై 22 (2) 1947 ఆగష్టు 15
(3) 1945 ఆగష్టు 15 (4) 1947 జూలై 22
10. కవిత గేయాన్ని రాసింది. - ఈ వాక్యంలో 'కర్మ' ను గుర్తించండి. [.....]
- (1) కవిత (2) గేయం
(3) రాసింది (4) పైవేవీ కావు

11. ఈ క్రింది వానిలో సంశ్లేష్ట వాక్యాన్ని గుర్తించండి. [.....]
- (1) లలిత పాట పాడింది.
 (2) కృష్ణ బాగా చదివాడు. మంచి పేరు తెచ్చుకున్నాడు.
 (3) ఆవులు గట్టుఎక్కి గడ్డి మేశాయి.
 (4) వివేకానందుడు షికాగోలో ఉపన్యసించాడు.
12. శివయ్య ఎంతో సమ్రత గా అడిగాడు. [.....]
- గీత గీచిన పదానికి అదే అర్థం ఇచ్చే మరో పదం గుర్తించండి.
- (1) వినయం (2) కోపం
 (3) అసూయ (4) ద్వేషం
13. దేశానికి సేవ చేయడమే జీవితానికి పారితోషికం అన్నది ఎవరు ? [.....]
- (1) గాంధీజీ (2) నెహ్రూ
 (3) లాల్ బాహుదూర్ శాస్త్రి (4) పింగళి వెంకయ్య
14. ఈ క్రింది వానిలో క్రియా రహిత వాక్యాన్ని గుర్తించండి. [.....]
- (1) సీతయ్య అమాయకుడు (2) పిల్లలు ఆడుకొంటున్నారు
 (3) శివయ్య నిద్రపోతున్నాడు (4) మంజునాథ్ పాటం చదువుతున్నాడు
15. విజయవాడలో పుస్తక ప్రదర్శన ఏర్పాటు చేసే ప్రదేశం ఏది ? [.....]
- (1) బెంజి సర్కిల్ (2) హనుమాన్ జంక్షన్
 (3) ప్రకాశం మైదాన్ (4) స్వరాజ్ మైదాన్



16. చైనా దేశంలో భాషను ఏ విధంగా చదువుతారు ? [.....]
- (1) ఎడమ నుండి కుడికి (2) కుడి నుండి ఎడమకు
(3) పై నుండి కిందకు (4) కింద నుండి పైకి
17. కవిత్వం రాసే వారిని కవులు అంటారు. అలాగే బొమ్మలు గీసే వారిని ఏమంటారు ? [.....]
- (1) చిత్రకారులు (2) రచయితలు
(3) సంపాదకులు (4) ముద్రకులు
18. బొగ్గును మండించటం ద్వారా తయారుచేసే విద్యుత్తు పేరు ఏమిటి ? [.....]
- (1) సౌర విద్యుత్తు (2) థర్మల్ విద్యుత్తు
(3) జల విద్యుత్తు (4) కాంతి విద్యుత్తు
19. జాన్ గూటెన్ బర్గ్ అచ్చు యంత్రాన్ని కనుగొనిన సంవత్సరం ఏది ? [.....]
- (1) 1540 (2) 1550
(3) 1450 (4) 1440
20. దేని ద్వారా యాంత్రిక శక్తిని విద్యుచ్ఛక్తిగా మారుస్తారు ? [.....]
- (1) రాకెట్లు (2) గొట్టాలు
(3) టర్బయిన్లు (4) క్రేన్లు
21. 'తెలుగు బాల' వ్రాసింది ఎవరు ? [.....]
- (1) కరుణశ్రీ (2) బద్దెన
(3) వేమన (4) అరుణశ్రీ

22. పిసినారి పాపయ్య శివయ్యకు ఎన్ని రూపాయలు తిరిగి ఇచ్చివేసి కృతజ్ఞతలు చెప్పాడు ? [.....]
- (1) వెయ్యి రూపాయలు
(2) రెండు వేలు రూపాయలు
(3) అయిదు వేలు రూపాయలు
(4) పది వేలు రూపాయలు
23. గ్రంథాలయ ఉద్యమాన్ని చేపట్టినది ఎవరు ? [.....]
- (1) కందుకూరి వీరేశలింగం
(2) గాడిచర్ల హరిసర్వోత్తమ రావు
(3) రాజా రామమోహన్ రాయ్
(4) కాళోజీ నారాయణరావు
24. ఈ క్రింది వానిలో విద్యుత్ పొదుపు చేయడానికి పాటించని సూచన ఏది ? [.....]
- (1) పగటి పూట బల్బులు వేయక పోవడం
(2) సి.ఎఫ్.ఎల్. బల్బులను వాడడం
(3) రిఫ్రిజిరేటర్‌ను తరచూ తెరుస్తూ ఉండడం
(4) గాలి, వెలుతురు కోసం ఫ్యానుకు బదులు కిటికీలు తెరిచి ఉండడం.
25. పోషకాహారంలో ఉండకూడని ఆహార పదార్థం ఏది ? [.....]
- (1) పాలు (2) అరటిపండ్లు
(3) గుడ్లు (4) కేకులు



గణితము
(Mathematics)

26. క్రింది వానిలో 5, 3, 7 అంకెలను ఉపయోగించి రాయగలిగే నాలుగు అంకెల మిక్కిలి పెద్ద సంఖ్య ఏది ? ఇచ్చిన అంకెలను పునరావృతం చేయవచ్చు ? [.....]

Which of the following is the greatest four digit number, you can make by using all three digits "5, 3, 7" and you may repeat the given digits ?

- (1) 7533 (2) 7530
(3) 7753 (4) 7553

27. నాలుగు అంకెల సంఖ్యలు మొత్తం ఎన్ని ? [.....]

How many four digit numbers are there in all ?

- (1) 9999 (2) 8999
(3) 9000 (4) 9001

28. 63837 లో 3 యొక్క స్థాన విలువల మొత్తం ఎంత ? [.....]

What is the sum of the place values of '3' in 63837 ?

- (1) 3030 (2) 3837
(3) 3333 (4) 3000

29. ఏవైనా మూడు వరుస అంకెలచే ఏర్పడే మూడంకెల సంఖ్యను '3' చే భాగించగా వచ్చు శేషం ఎంత ? [.....]

What is the remainder you can get, when 3 divides any three digit number which is formed by any three continuous digits ?

- (1) 3 (2) 0
(3) 1 (4) 2

30. 5 కేజీల బరువు గల గోధుమపిండి ప్యాకెట్ వెల 124 రూపాయలు అయినా 42 ప్యాకెట్ల వెల ఎంత ? [.....]

- (1) 5218 రూపాయలు (2) 5208 రూపాయలు
(3) 5228 రూపాయలు (4) 5308 రూపాయలు

Cost of 5 kg. wheat powder packet is ₹ 124. What is the cost of 42 packets ?

- (1) ₹ 5218 (2) ₹ 5208
(3) ₹ 5228 (4) ₹ 5308

31. 9 మీటర్లు + 8 మిల్లీ మీటర్లు + 7 సెంటీ మీటర్లు = _____ [.....]

- (1) 0.009078 కి.మీ. (2) 9.078 మీ.
(3) 907.8 సెం.మీ. (4) పైవన్నీ

9 m + 8 mm + 7 cm = _____

- (1) 0.009078 km (2) 9.078 m
(3) 907.8 cm (4) Above all

32. 15 సెం.మీ.ల భుజం గల చతురస్రం చుట్టుకొలత ఎంత ? [.....]

- (1) 0.60 మీ. (2) 6.0 మీ.
(3) 60 సెం.మీ. (4) (1) మరియు (3)

What is the perimeter of the square, whose side is 15 cm ?

- (1) 0.60 m (2) 6.0 m
(3) 60 cm (4) (1) and (3)

33. 12 సెం.మీ.ల పొడవు 8 సెం.మీ. ల వెడల్పు గల దీర్ఘచతురస్రాకార కాగితం నుండి 1 సెం.మీ. భుజం గల చతురస్రాలను ఎన్నింటిని పొందగలం ? [.....]

Length and breadths of a rectangular paper are 12 cm and 8 cm. How many squares, whose side is 1 cm, can you get from the paper ?

- (1) 20 (2) 40
(3) 96 (4) 48
34. లంబ కోణం విలువ ఎంత ? [.....]
- What is the value of right angle ?
- (1) 60° (2) 70°
(3) 80° (4) 90°
35. క్రింది వానిలో ఏ వస్తువు నీడ దీర్ఘచతురస్రాకారంలో ఉంటుంది ? [.....]

- (1) పాఠ్య పుస్తకం (2) అగ్గిపెట్టె
(3) 5 రూపాయల నోటు (4) పైవన్నీ

Which of the following object can make a shade of rectangular shape ?

- (1) Text book (2) Match box
(3) Note of ₹ 5 (4) Above all
36. చైనీయులు రూపొందించిన “టాన్ గ్రాము” ఎన్ని చతురస్రాలు ఉన్నాయి ? [.....]

How many squares are there in a “Tan gram”, which was designed by Chinese ?

- (1) 7 (2) 5
(3) 1 (4) 2

37. ఒకే భుజం కొలత కలిగిన 12 చతురస్రాలను ఉపయోగించి ఎన్ని విధాలగా దీర్ఘచతురస్రాలను ఏర్పరచవచ్చు? [.....]

How many types of rectangles can you form by using 12 squares, whose sides are equal ?

- (1) 12 (2) 3
(3) 6 (4) 9

38. 15 సెం.మీ. పొడవు, 7 సెం.మీ.ల వెడల్పు గల దీర్ఘచతురస్రాకార కాగిత వైశాల్యం ఎంత? [.....]

- (1) 44 సెం.మీ. (2) 105 సెం.మీ.
(3) 44 చదరపు సెం.మీ. (4) 105 చదరపు సెం.మీ.

Length and breadth of a rectangular paper are 15 cm and 7 cm What is the area of the paper ?

- (1) 44 cm (2) 105 cm
(3) 44 square centimetre (4) 105 square centimetre

39. ఒక ఆవు రోజుకి 5 కిలోల 750 గ్రాముల దాణా తింటుంది. ఏప్రిల్ మాసానికి ఆ ఆవుకి ఎంత దాణా కావాలి? [.....]

- (1) 173 కిలోల - 750 గ్రాములు (2) 172 కిలోల - 500 గ్రాములు
(3) 172 కిలోల - 250 గ్రాములు (4) 171 కిలోల - 000 గ్రాములు

5 kg-750 gr. of fodder is given to a cow each day. What quantity of food is required for feeding the cow for April month ?

- (1) 173 kg - 750 g (2) 172 kg - 500 g
(3) 172 kg - 250 g (4) 171 kg - 000g

40. ఒక దుకాణదారుడు 250 మి.లీ. మరియు 500 మి.లీ.ల పాల ప్యాకెట్లు అమ్ముతున్నాడు. ఒక రోజు అతను 6 లీటర్ల పాలను 17 ప్యాకెట్ల రూపంలో అమ్మాడు. ఐతే అతను ఏ రకం ప్యాకెట్లు ఎన్నెన్ని అమ్మి ఉంటాడు ? [.....]

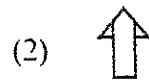
- (1) 250 మి.లీ.-10 మరియు 500 మి.లీ.-7
 (2) 250 మి.లీ.-9 మరియు 500 మి.లీ.-8
 (3) 250 మి.లీ.-8 మరియు 500 మి.లీ.-9
 (4) 250 మి.లీ.-7 మరియు 500 మి.లీ.-10

A salesman sold 250 ml and 500 ml milk packets. One day, he sold 17 packets with the quantity of 6 liters. How many 250 ml and 500 ml packets did he sold ?

- (1) 250 ml-10 & 500 ml-7
 (2) 250 ml-9 & 500 ml-8
 (3) 250 ml-8 & 500 ml-9
 (4) 250 ml-7 & 500 ml-10

41. క్రింది వానిలో ఏ చిత్రాన్ని కుడివైపుకు $\frac{1}{2}$ వ బ్రమణం తిప్పినా, ఒకే విధంగా ఉంటుంది ? [.....]

Which of the following will not change its position on the $\frac{1}{2}$ turn on right side ?



42. భారత్ మరియు ఇంగ్లాండ్ల మధ్య ఉదయం గం. 9-30 ని.లకు ప్రారంభమైన ఒక క్రికెట్ మ్యాచ్ సాయంత్రం గం. 4.45 ని.లకు ముగిసింది. అయినా ఆ మ్యాచ్ ఎంతసేపు కొనసాగింది? [.....]

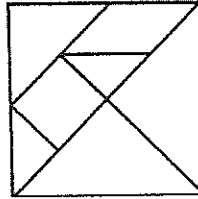
- (1) గం. 5.15 ని.ల
(2) గం. 6.45 ని.ల
(3) గం. 7.45 ని.ల
(4) గం. 7.15 ని.ల

A cricket match between India and England was started at 9-30 AM and closed at 4.45 PM. How much time did the both teams played ?

- (1) 5 Hrs. – 15 min.
(2) 6 Hrs. – 45 min.
(3) 7 Hrs. – 45 min.
(4) 7 Hrs. – 15 min.

43. చైనీయులు కనిపెట్టిన ఒక పెద్ద త్రిభుజం, “టాన్ గ్రాము” లో ఎన్నవ భాగం? [.....]

What is the part (fraction) of big Triangle in the “Tan gram” invented by Chinese ?



- (1) $\frac{1}{7}$ (2) $\frac{2}{7}$
(3) $\frac{1}{4}$ (4) $\frac{1}{2}$

44. రఘు $\frac{7}{12}$ వ వంతు పనిని సోమవారం, $\frac{3}{12}$ వ వంతు పనిని మంగళవారం పూర్తి చేశాడు. అతను ఇంకా ఎంత పనిని పూర్తి చేయాలి ? [.....]

Raghu completed $\frac{7}{12}$ of work on Monday and $\frac{3}{12}$ on Tuesday. How much work shall be complete ?

- (1) $\frac{1}{6}$ (2) $\frac{1}{9}$
(3) $\frac{1}{12}$ (4) $\frac{5}{12}$

45. క్రింది వానిలో 3, 4, 5 మరియు 10 ల ఉమ్మడి గుణిజం ఏది ? [.....]

Which of the following is the common multiple of 3, 4, 5 and 10 ?

- (1) 30 (2) 40
(3) 50 (4) 60

46. 49 యొక్క కారణాంకాల మొత్తం ఎంత ? [.....]

What is the sum of factors of 49 ?

- (1) 64 (2) 57
(3) 50 (4) 56

47. చతురస్రానికి గల సౌష్ఠవ రేఖల సంఖ్య ఎంత ? [.....]

How many symmetric lines are there in a square ?

- (1) 2 (2) 1
(3) 4 (4) 3

48. క్రింది వానిలో ఎక్కువ సౌష్ఠ్య రేఖలను కలిగిన అంకె ఏది ?

[.....]

Which of the following number has more symmetric lines ?

(1) 3

(2) 5

(3) 8

(4) 7

49. క్రింది వానిలో '2' చే నిశ్శేషంగా భాగింపబడే సంఖ్య ఏది ?

[.....]

Which of the following number is divisible by '2' ?

(1) 68473

(2) 84371

(3) 53742

(4) 34785

50. 3 మీ. పొడవు, 1 మీ. 50 సెం.మీ.ల వెడల్పు గల దీర్ఘచతురస్రాకార కాగిత చుట్టుకొలత ఎంత ?

[.....]

(1) 4.5 మీ.

(2) 900 సెం.మీ.

(3) 9 మీ.

(4) (2) మరియు (3)

Length and breadth of a rectangular paper are 3 m and 1 m 50 cm. What is the perimeter of the rectangular paper ?

(1) 4.5 m

(2) 900 cm

(3) 9 m

(4) (2) and (3)

పరిసరాల విజ్ఞానము
(Environmental Science)

51. దీనివల్ల నేల గుల్లబారుతుంది.

[.....]



చీమ



సాలెపురుగు



వానపాము

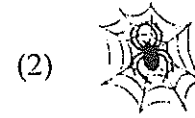


పాము


Loosen the soil is done by



Ant



Spider



Earth-worm



Snake

52. 'గుస్సాడి' నృత్యంలో గోండులు వీటితో అలంకరించుకుంటారు.

[.....]

(1) కొమ్ములు

(2) పూసల దండలు

(3) నెమలి పింఛాలు

(4) అద్దములు

While doing 'Gussadi' dance Gonds decorate themselves with _____.

(1) Horns

(2) Beaded chains

(3) Peacock feathers

(4) Mirrors

53. భారతదేశంలో అతిపెద్ద రోడ్డు - రైలు వంతెన

[.....]

(1) జయక్వాడి బ్రిడ్జి

(2) గోదావరి బ్రిడ్జి

(3) హౌరా బ్రిడ్జి

(4) ప్రకాశం బ్యారేజి

Longest road-rail bridge in India

(1) Jayakawadi bridge

(2) Godavari bridge

(3) Howrah bridge

(4) Prakasham barrage

54. పార్లమెంటులోని సభ్యుల సంఖ్య

Total number of members in Parliament is

- (1) 755 (2) 790
(3) 750 (4) 792

55. మన దేహంలోని రోగ కారక క్రిములతో పోరాడే కణాలు

[.....]

- (1) ఎర్ర రక్త కణాలు (2) తెల్ల రక్త కణాలు
(3) రక్త ఫలకికలు (4) (1) మరియు (3)

The cells that fight against the disease causing germs of our body

- (1) Red Blood Corpuscles (2) White Blood Corpuscles
(3) Blood platelets (4) (1) & (3)

56. శరీరానికి ఎండ తగలడం వలన మనకు లభించే విటమిన్

[.....]

We get this Vitamin when we are exposed to Sunlight.

- (1) A (2) B
(3) C (4) D

57. మన దేశంలో సౌరశక్తిని ఎక్కువగా వాడే రాష్ట్రం

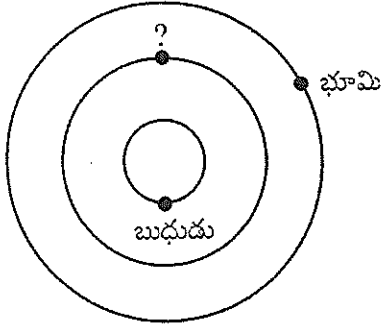
[.....]

- (1) రాజస్థాన్ (2) గుజరాత్
(3) అసోం (4) ఆంధ్రప్రదేశ్

State of our country that uses Solar energy to maximum extent

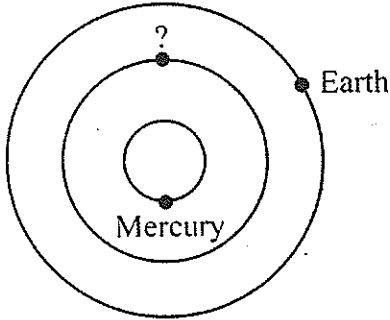
- (1) Rajasthan (2) Gujarat
(3) Assom (4) Andhra Pradesh

58. (?) గ్రహము పేరు



- | | |
|---------------|--------------|
| (1) గురుడు | (2) శుక్రుడు |
| (3) అంగారకుడు | (4) శని |

Missing Planet is _____



- | | |
|-------------|------------|
| (1) Jupiter | (2) Venus |
| (3) Mars | (4) Saturn |

59. క్రింది వాటిలో సరైనది కానిది.

[.....]

- (1) పులస మంచినీటి చేప.
- (2) పులస గోదావరి జలాల్లో గుడ్లు పెడతాయి.
- (3) పులసలో ఒక్కొక్కటి 3 క్రోమియం అమ్లం ఉంటాయి.
- (4) హిల్సా ఇలీషా పులస శాస్త్రీయ నామం.

Incorrect statement of the following :

- (1) Pulasa is a fresh water fish.
- (2) Pulasa enters the Godavari waters to lay eggs.
- (3) Pulasa is rich in Omega 3 fatty acids.
- (4) Pulasa's Scientific name is Hilsa ilisha.

60. మన శరీరంలోని మొత్తం ఎముకలు

[.....]

Total bones in our body

- | | |
|---------|---------|
| (1) 260 | (2) 206 |
| (3) 266 | (4) 216 |

61. రాజ్యాంగ రచన కమిటీ చైర్మన్

[.....]

- (1) పి.టి. కృష్ణమాచార్యులు
- (2) బి.ఆర్. అంబేద్కర్
- (3) గోపాలస్వామి అయ్యంగార్
- (4) బాబూ రాజేంద్ర ప్రసాద్

Chairman for the Constitution Drafting Committee.

- (1) P.T. Krishnama Charyulu
- (2) B.R. Ambedkar
- (3) Gopala Swamy Ayyengar
- (4) Babu Rajendra Prasad

62. చిత్తూరు జిల్లాలోని ప్రసిద్ధ కోట

[.....]

- | | |
|------------------|-------------------|
| (1) ఉదయగిరి కోట | (2) పెనుగొండ కోట |
| (3) భువనగిరి కోట | (4) చంద్రగిరి కోట |

Fort present in Chittoor district.

- | | |
|----------------------|----------------------|
| (1) Udayagiri Fort | (2) Penugonda Fort |
| (3) Bhuvanagiri Fort | (4) Chandragiri Fort |

63. కొయ్య బొమ్మలకు నిలయం

[.....]

- (1) నిర్మల్ (2) మంథని
(3) కోదాడ (4) వుయ్యూరు

Homeland for wooden toys.

- (1) Nirmal (2) Manthani
(3) Kodada (4) Uyyuru

64. 'నాగోబా' ఆలయం ఉండే జిల్లా

[.....]

- (1) మహబూబ్ నగర్ (2) ఆదిలాబాద్
(3) అరకు (4) తూర్పు గోదావరి

Nagoba Temple located in this place :

- (1) Mahaboob Nagar (2) Adilabad
(3) Araku (4) East Godavari

65. రిక్టర్ స్కేలుపై ప్రకంపనాల తీవ్రత ఎన్ని పాయింట్లు దాటితే ప్రమాదము ?

[.....]

- (1) 3-4 పాయింట్లు (2) 4-5 పాయింట్లు
(3) 5-6 పాయింట్లు (4) 6-7 పాయింట్లు

At which point of intensity of vibrations on Richter scales is more danger for earthquake ?

- (1) 3-4 points (2) 4-5 points
(3) 5-6 points (4) 6-7 points

66.

వైద్య నిపుణుడు	శరీర భాగము
1. పల్మోనాలజిస్టు	ఊపిరితిత్తులు
2. కార్డియాలజిస్టు	?

(1) మాత్రపిండాలు (2) గుండె

(3) మెదడు (4) కన్ను

Specialist	Body Part
1. Pulmonologist	Lungs
2. Cardiologist	?

(1) Kidneys (2) Heart

(3) Brain (4) Eye

67. భద్రాచలంలోని పరిశ్రమ _____

(1) సహజ వాయు విద్యుత్కేంద్రం

(2) థర్మల్ పవర్ స్టేషన్

(3) పేపరు మిల్లు

(4) చక్కెర మిల్లు

The industry located in Bhadrachalam is _____

(1) Natural Gas Power Plant

(2) Thermal Power Station

(3) Paper Mill

(4) Sugar Mill

68. గోదావరి ఈ ప్రాంతములో బంగాళాఖాతంలో కలియును.

[.....]

- (1) యానాం (2) రాజమండ్రి
(3) బాసర (4) భద్రాచలం

Godavari river meets the Bay of Bengal at _____

- (1) Yanam (2) Rajahmundry
(3) Basara (4) Bhadrachalam

69. డాక్టర్ బీమాంట్ దీనిపై ప్రయోగాలు చేశాడు.

[.....]

- (1) శ్వాస క్రియ
(2) విసర్జక క్రియ
(3) జీర్ణ క్రియ
(4) రక్త ప్రసరణ క్రియ

Dr. Beaumont did his experiments on

- (1) Respiration System
(2) Excretion System
(3) Digestive System
(4) Circulatory System

70. చదివేటప్పుడు కంటికి, పుస్తకానికి మధ్య ఉండాలి న దూరం

[.....]

- (1) 30 సెం.మీ. (2) 3 మి.మీ.
(3) 30 మి.మీ. (4) 300 సెం.మీ.

During studying, the distance between eye and the text book should be _____

- (1) 30 cms (2) 3 mm
(3) 30 mm (4) 300 cms

71. శ్రీరాం సాగర్ ఆనకట్ట ఈ నదిపై ఉన్నది.

- | | |
|--------------|-------------|
| (1) కృష్ణా | (2) గోదావరి |
| (3) తుంగభద్ర | (4) కావేరి |

Sri Ram Sagar bridge was built on this river.

- | | |
|-----------------|--------------|
| (1) Krishna | (2) Godavari |
| (3) Tungabhadra | (4) Kaveri |

72. 'హతా' అనగా

- (1) చెంచు తెగల సంత
- (2) బొండా తెగల సంత
- (3) సవర తెగల సంత
- (4) బంజార తెగల సంత

'Hatha' means

- (1) Chenchu Tribe's fair
- (2) Bonda Tribe's fair
- (3) Savara Tribe's fair
- (4) Banjara Tribe's fair

73. శారీరిక పెరుగుదలకు ఉపయోగపడేవి.

- | | |
|----------------|----------------------|
| (1) ప్రోటీనులు | (2) కార్బోహైడ్రేటులు |
| (3) క్రొవ్వులు | (4) విటమినులు |

Useful substances that increase body growth

- | | |
|--------------|-------------------|
| (1) Proteins | (2) Carbohydrates |
| (3) Fats | (4) Vitamins |

74. IR20, హంస, బంగారు తీగ అనునవి _____

[.....]

- (1) చేప జాతులు
- (2) పరి వంగడాలు
- (3) ఆభరణాల పేర్లు
- (4) కీటక నాశనులు

IR20, Hamsa, Bangaru theega are _____

- (1) Fish variety
- (2) Crop varieties
- (3) Ornaments name
- (4) Insecticides

75. C.P.R. ప్రక్రియ దీనికి చెందినది.

[.....]

- (1) ఊపిరితిత్తులు
- (2) గుండె
- (3) మూత్రపిండాలు
- (4) (1) మరియు (2)

C.P.R. method is related to

- (1) Lungs
- (2) Heart
- (3) Kidneys
- (4) (1) & (2)

English

76. Choose the correct pair of rhyming words. [.....]

- (1) see - meals
- (2) see - eels
- (3) see - free
- (4) see - fish

77. 'A.M.' means _____ [.....]

- (1) Ante Meridiem
- (2) Apple meridiem
- (3) All Money
- (4) At Noon

78. I can't lift this bag because it is _____. [.....]

Choose the correct word to fill in the blank.

- (1) light
- (2) strong
- (3) heavy
- (4) slow

79. Get the boxes ready. This sentence is : [.....]

- (1) a question
- (2) an order
- (3) a request
- (4) an advice

80. The king heard that Rangaiah was a great magician. He _____ the magician. [.....]

Choose the correct phrasal verb to fill in the blank above.

- (1) sent in
- (2) sent out
- (3) sent by
- (4) sent for

81. Choose the opposite word of 'closed'. [.....]

- (1) shut
- (2) finished
- (3) out
- (4) open

82. Yesterday was Monday. [.....]

In the above sentence 'Yesterday' is

- (1) an adjective
- (2) an adverb
- (3) a noun
- (4) a verb

83. I can do nothing to help you. [.....]

Choose the meaning of the sentence above.

- (1) I can help you.
- (2) Nobody will help you.
- (3) We will help you.
- (4) There is nothing I can do to help you.

84. Choose the correct form of adjective. [.....]

- (1) Courageous
- (2) Courage
- (3) Courageously
- (4) Courageousness

85. Choose the correct pair of words with similar meanings. [.....]

- (1) intelligent - delight
- (2) intelligent - pleasure
- (3) intelligent - clever
- (4) intelligent - watch

86. Choose the opposite word of 'ugly'. [.....]

- (1) unugly
- (2) disugly
- (3) beautiful
- (4) inugly

87. Helen joined a Political party. She became a famous _____ . [.....]

Choose the word to fill in the blank.

- (1) Politics
- (2) Politician
- (3) Politically
- (4) Political

88. _____ of these colours do you like best ?

[.....]

Choose the correct word to fill in the blank.

- (1) When
- (2) Which
- (3) Where
- (4) How

89. Choose the correct meaning of "author".

[.....]

- (1) Writer of a book
- (2) Hero of a movie
- (3) Character in a story
- (4) Singer of a song

90. Choose the meaning of 'Craftsman'.

[.....]

- (1) A person who has skill at cooking food.
- (2) A person who is skillful in singing.
- (3) A person who has skill at writing poetry.
- (4) A person who has skill at making things.

91. Choose the sentence with correct use of Capital letters.

[.....]

- (1) My friends are Mohan and Gopi.
- (2) my friends are Mohan and gopi.
- (3) My friends are mohan and gopi.
- (4) My Friends are Mohan and Gopi.

92. Choose the word with correct spelling.

[.....]

- (1) especially
- (2) especally
- (3) espeically
- (4) especialy

93. Choose the word with wrong spelling. [.....]
- (1) enough
 - (2) strength
 - (3) hevy
 - (4) ready
94. Choose the word that has the meaning of "threw something with force". [.....]
- (1) flung
 - (2) grabbed
 - (3) untidy
 - (4) traffic
95. Choose the word that does not refer to a person. [.....]
- (1) Soldier
 - (2) Cook
 - (3) Specialist
 - (4) Engine
96. Choose the word that does not refer to a place. [.....]
- (1) School
 - (2) Bathroom
 - (3) Home
 - (4) Courtier
97. Choose the correct expression that we use to take permission. [.....]
- (1) May I go out of the class ?
 - (2) I will go out of the class.
 - (3) You will go out of the class.
 - (4) I don't like class.

Q. Nos. 98-100 : Read the following passage and choose the correct answers.

The guide took us to a film show set-out by the Forest Department. The film was about the life of birds.

98. Who took them to a film show ?

[.....]

- (1) The Forest Department
- (2) The Birds
- (3) The Guide
- (4) The Parents

99. Who arranged the film show ?

[.....]

- (1) The Guide
- (2) The Forest Department
- (3) The Birds
- (4) The Villagers

100. What was the film about ?

[.....]

- (1) About Fish
- (2) About Forests
- (3) About Birds
- (4) About Guides

మార్కుల పట్టిక

Table of Marks

	<i>Max. Marks</i>	<i>Marks awarded</i>	<i>Marks in words</i>
1. తెలుగు Telugu	25		
2. గణితము Mathematics	25		
3. పరిసరాల విజ్ఞానము Environmental Science	25		
4. ఇంగ్లీష్ English	25		

Signature of the Examiner